

रोल नं.

--	--	--	--	--	--	--

Roll No.

--	--	--	--	--	--	--

परीक्षार्थी कोड को उत्तर-पुस्तिका के मुख-पृष्ठ पर अवश्य लिखें ।

Candidates must write the Code on the title page of the answer-book.

- कृपया जाँच कर लें कि इस प्रश्न-पत्र में मुद्रित पृष्ठ 19 हैं ।
- प्रश्न-पत्र में दाहिने हाथ की ओर दिए गए कोड नम्बर को छात्र उत्तर-पुस्तिका के मुख-पृष्ठ पर लिखें ।
- कृपया जाँच कर लें कि इस प्रश्न-पत्र में 26 प्रश्न हैं ।
- कृपया प्रश्न का उत्तर लिखना शुरू करने से पहले, प्रश्न का क्रमांक अवश्य लिखें ।
- इस प्रश्न-पत्र को पढ़ने के लिए 15 मिनट का समय दिया गया है । प्रश्न-पत्र का वितरण पूर्वाह्न में 10.15 बजे किया जाएगा । 10.15 बजे से 10.30 बजे तक छात्र केवल प्रश्न-पत्र को पढ़ेंगे और इस अवधि के दौरान वे उत्तर-पुस्तिका पर कोई उत्तर नहीं लिखेंगे ।
- Please check that this question paper contains 19 printed pages.
- Code number given on the right hand side of the question paper should be written on the title page of the answer-book by the candidate.
- Please check that this question paper contains 26 questions.
- **Please write down the Serial Number of the question before attempting it.**
- 15 minute time has been allotted to read this question paper. The question paper will be distributed at 10.15 a.m. From 10.15 a.m. to 10.30 a.m., the students will read the question paper only and will not write any answer on the answer-book during this period.

भौतिक विज्ञान (सैद्धांतिक)

PHYSICS (Theory)

निर्धारित समय : 3 घण्टे

Time allowed : 3 hours

अधिकतम अंक : 70

Maximum Marks : 70

सामान्य निर्देश:

- (i) सभी प्रश्न अनिवार्य हैं। इस प्रश्न-पत्र में कुल 26 प्रश्न हैं।
- (ii) इस प्रश्न-पत्र के पाँच भाग हैं: खण्ड अ, खण्ड ब, खण्ड स, खण्ड द और खण्ड य।
- (iii) खण्ड अ में पाँच प्रश्न हैं, प्रत्येक का एक अंक है। खण्ड ब में पाँच प्रश्न हैं, प्रत्येक के दो अंक हैं। खण्ड स में बारह प्रश्न हैं, प्रत्येक के तीन अंक हैं। खण्ड द में चार अंक का एक मूल्याधारित प्रश्न है और खण्ड य में तीन प्रश्न हैं, प्रत्येक के पाँच अंक हैं।
- (iv) प्रश्न-पत्र में समग्र पर कोई विकल्प नहीं है। तथापि, दो अंकों वाले एक प्रश्न में, तीन अंकों वाले एक प्रश्न में और पाँच अंकों वाले तीनों प्रश्नों में आन्तरिक चयन प्रदान किया गया है। ऐसे प्रश्नों में आपको दिए गए चयन में से केवल एक प्रश्न ही करना है।
- (v) जहाँ आवश्यक हो, आप निम्नलिखित भौतिक नियतांकों के मानों का उपयोग कर सकते हैं:

$$c = 3 \times 10^8 \text{ m/s}$$

$$h = 6.63 \times 10^{-34} \text{ Js}$$

$$e = 1.6 \times 10^{-19} \text{ C}$$

$$\mu_0 = 4\pi \times 10^{-7} \text{ T m A}^{-1}$$

$$\epsilon_0 = 8.854 \times 10^{-12} \text{ C}^2 \text{ N}^{-1} \text{ m}^{-2}$$

$$\frac{1}{4\pi\epsilon_0} = 9 \times 10^9 \text{ N m}^2 \text{ C}^{-2}$$

$$\text{इलेक्ट्रॉन का द्रव्यमान} = 9.1 \times 10^{-31} \text{ kg}$$

$$\text{न्यूट्रॉन का द्रव्यमान} = 1.675 \times 10^{-27} \text{ kg}$$

$$\text{प्रोटॉन का द्रव्यमान} = 1.673 \times 10^{-27} \text{ kg}$$

$$\text{आवोगाद्रो संख्या} = 6.023 \times 10^{23} \text{ प्रति ग्राम मोल}$$

$$\text{बोल्ट्ज़मान नियतांक} = 1.38 \times 10^{-23} \text{ JK}^{-1}$$

General Instructions :

- (i) **All** questions are compulsory. There are **26** questions in all.
- (ii) This question paper has **five** sections : Section A, Section B, Section C, Section D and Section E.
- (iii) Section A contains **five** questions of **one** mark each, Section B contains **five** questions of **two** marks each, Section C contains **twelve** questions of **three** marks each, Section D contains one value based question of **four** marks and Section E contains **three** questions of **five** marks each.
- (iv) There is no overall choice. However, an internal choice has been provided in **one** question of **two** marks, **one** question of **three** marks and all the **three** questions of **five** marks weightage. You have to attempt only **one** of the choices in such questions.
- (v) You may use the following values of physical constants wherever necessary :

$$c = 3 \times 10^8 \text{ m/s}$$

$$h = 6.63 \times 10^{-34} \text{ Js}$$

$$e = 1.6 \times 10^{-19} \text{ C}$$

$$\mu_0 = 4\pi \times 10^{-7} \text{ T m A}^{-1}$$

$$\epsilon_0 = 8.854 \times 10^{-12} \text{ C}^2 \text{ N}^{-1} \text{ m}^{-2}$$

$$\frac{1}{4\pi\epsilon_0} = 9 \times 10^9 \text{ N m}^2 \text{ C}^{-2}$$

$$\text{Mass of electron} = 9.1 \times 10^{-31} \text{ kg}$$

$$\text{Mass of neutron} = 1.675 \times 10^{-27} \text{ kg}$$

$$\text{Mass of proton} = 1.673 \times 10^{-27} \text{ kg}$$

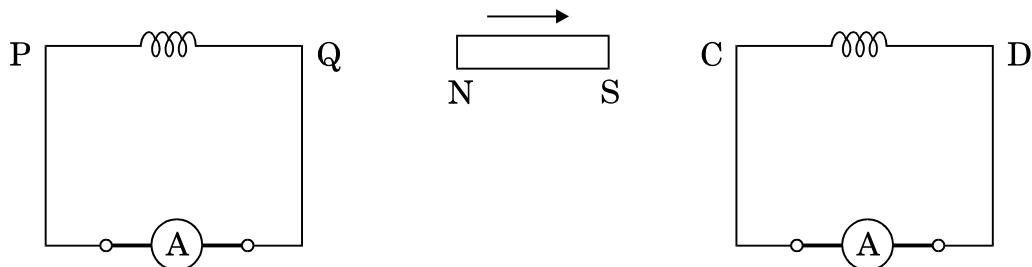
$$\text{Avogadro's number} = 6.023 \times 10^{23} \text{ per gram mole}$$

$$\text{Boltzmann constant} = 1.38 \times 10^{-23} \text{ JK}^{-1}$$

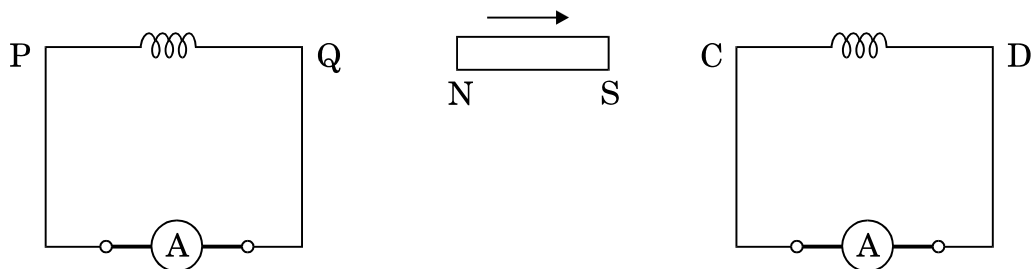
खण्ड अ
SECTION A

1. किसी छड़ चुम्बक को दो कुण्डलियों PQ और CD के बीच तीर द्वारा दर्शाई गई दिशा में गतिमान कराया गया है। प्रत्येक कुण्डली में प्रेरित धारा की दिशा का अनुमान लगाइए।

1



A bar magnet is moved in the direction indicated by the arrow between two coils PQ and CD. Predict the direction of the induced current in each coil.



2. विद्युत् और चुम्बकीय क्षेत्रों के आयामों के पदों में विद्युत्-चुम्बकीय तरंगों की चाल के लिए सम्बन्ध लिखिए।

1

Write the relation for the speed of electromagnetic waves in terms of the amplitudes of electric and magnetic fields.

3. समान लम्बाई और समान त्रिज्या के निक्रोम और ताँबे के तार श्रेणीक्रम में संयोजित हैं। इनमें से धारा I प्रवाहित कराई गई है। कौन-सा तार अधिक तप्त होगा ? अपने उत्तर की पुष्टि कीजिए।

1

Nichrome and copper wires of same length and same radius are connected in series. Current I is passed through them. Which wire gets heated up more ? Justify your answer.

4. यदि बैंगनी रंग के आपतित प्रकाश को लाल प्रकाश से प्रतिस्थापित कर दिया जाए, तो काँच के प्रिज़्म का न्यूनतम विचलन कोण किस प्रकार परिवर्तित होगा ? कारण दीजिए । 1

How does the angle of minimum deviation of a glass prism vary, if the incident violet light is replaced by red light ? Give reason.

5. उस परिघटना का नाम लिखिए जो विद्युत्-चुम्बकीय विकिरणों की क्वान्टम प्रकृति को दर्शाती है । 1

Name the phenomenon which shows the quantum nature of electromagnetic radiation.

खण्ड ब

SECTION B

6. उस स्थिति को ज्ञात कीजिए जिनमें विद्युत् और चुम्बकीय क्षेत्र सदिशों की उपस्थिति में विभिन्न चालों से गतिमान आवेशित कणों का उपयोग किसी विशेष चाल से गतिमान आवेशित कणों के चयन के लिए किया जाता है । 2

Find the condition under which the charged particles moving with different speeds in the presence of electric and magnetic field vectors can be used to select charged particles of a particular speed.

7. उन विद्युत्-चुम्बकीय तरंगों को पहचानिए जिनकी तरंगदैर्घ्य नीचे दिए गए परिसरों में रहती है

(a) $10^{-11} \text{ m} < \lambda < 10^{-14} \text{ m}$

(b) $10^{-4} \text{ m} < \lambda < 10^{-6} \text{ m}$

प्रत्येक का एक उपयोग लिखिए । 2

Identify the electromagnetic waves whose wavelengths lie in the range

(a) $10^{-11} \text{ m} < \lambda < 10^{-14} \text{ m}$

(b) $10^{-4} \text{ m} < \lambda < 10^{-6} \text{ m}$

Write one use of each.

8. एकल झिरी विवर्तन और द्वि झिरी व्यतिकरण के लिए तीव्रता पैटर्न खींचिए । अतः इस प्रकार व्यतिकरण और विवर्तन पैटर्नों के बीच दो अन्तरों का उल्लेख कीजिए ।

2

अथवा

अध्रुवित प्रकाश किसी पोलेराइड P_1 से गुजरता है । जब यह ध्रुवित प्रकाश पुंज किसी अन्य पोलेराइड P_2 से गुजरता है तथा यदि P_2 का पास-अक्ष P_1 के पास-अक्ष से θ कोण बनाता है, तब P_2 से गुजरने वाले ध्रुवित प्रकाश पुंज के लिए व्यंजक लिखिए । जब θ का मान 0 से 2π के बीच विचरण करता है, तो तीव्रता में विचरण को दर्शाने के लिए ग्राफ़ खींचिए ।

2

Draw the intensity pattern for single slit diffraction and double slit interference. Hence, state two differences between interference and diffraction patterns.

OR

Unpolarised light is passed through a polaroid P_1 . When this polarised beam passes through another polaroid P_2 and if the pass axis of P_2 makes angle θ with the pass axis of P_1 , then write the expression for the polarised beam passing through P_2 . Draw a plot showing the variation of intensity when θ varies from 0 to 2π .

9. हाइड्रोजन के स्पेक्ट्रम की लाइमैन श्रेणी के लिए लघु तरंगदैर्घ्य सीमा 913.4 \AA है । हाइड्रोजन के स्पेक्ट्रम की बामर श्रेणी के लिए लघु तरंगदैर्घ्य सीमा परिकलित कीजिए ।

2

The short wavelength limit for the Lyman series of the hydrogen spectrum is 913.4 \AA . Calculate the short wavelength limit for Balmer series of the hydrogen spectrum.

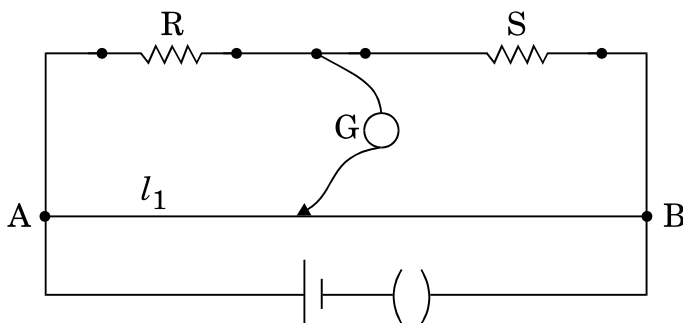
10. (a) स्थायी चुम्बक, और (b) विद्युत्-चुम्बक बनाने के लिए उपयुक्त पदार्थ के दो गुण लिखिए ।

2

Write two properties of a material suitable for making (a) a permanent magnet, and (b) an electromagnet.

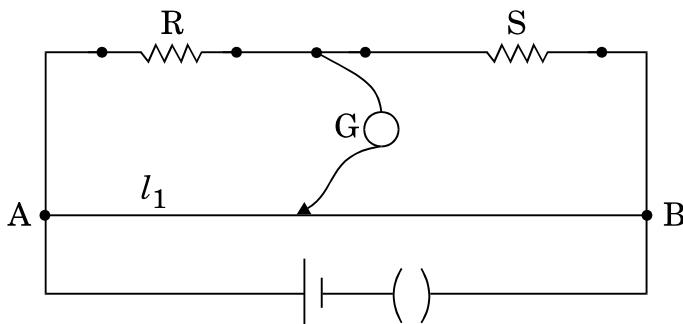
खण्ड स
SECTION C

11. (a) 589 nm तरंगदैर्घ्य का कोई एकवर्णी प्रकाश वायु से किसी जल के पृष्ठ पर आपतित होता है। यदि जल का $\mu = 1.33$ है, तो परावर्तित प्रकाश की तरंगदैर्घ्य, आवृत्ति और चाल ज्ञात कीजिए।
- (b) 1.55 अपवर्तनांक के काँच से कोई उभयोत्तल लेंस बनाया गया है जिसके दोनों फलकों की वक्रता त्रिज्या समान हैं। यदि इस लेंस की फोकस दूरी 20 cm है, तो आवश्यक वक्रता त्रिज्या ज्ञात कीजिए।
- (a) Monochromatic light of wavelength 589 nm is incident from air on a water surface. If μ for water is 1.33, find the wavelength, frequency and speed of the refracted light.
- (b) A double convex lens is made of a glass of refractive index 1.55, with both faces of the same radius of curvature. Find the radius of curvature required, if the focal length is 20 cm.
12. (a) किसी परावर्ती टेलीस्कोप द्वारा प्रतिबिम्ब बनना दर्शाने के लिए किरण आरेख खींचिए।
- (b) अपवर्ती टेलीस्कोप की तुलना में परावर्ती टेलीस्कोप के दो लाभ लिखिए।
- (a) Draw a ray diagram showing the formation of image by a reflecting telescope.
- (b) Write two advantages of a reflecting telescope over a refracting telescope.
13. (a) किसी मीटर सेतु का कार्यकारी सिद्धान्त लिखिए।
- (b) किसी मीटर सेतु में, आरेख में दर्शाए अनुसार, प्रतिरोध R और S के साथ दूरी l_1 पर संतुलन बिन्दु प्राप्त होता है।



प्रतिरोध S के पार्श्व में किसी अज्ञात प्रतिरोध X को संयोजित करने पर अब संतुलन बिन्दु दूरी l_2 पर प्राप्त होता है। l_1 , l_2 और S के पदों में X के लिए सूत्र प्राप्त कीजिए।

- (a) Write the principle of working of a metre bridge.
- (b) In a metre bridge, the balance point is found at a distance l_1 with resistances R and S as shown in the figure.



An unknown resistance X is now connected in parallel to the resistance S and the balance point is found at a distance l_2 . Obtain a formula for X in terms of l_1 , l_2 and S.

14. कुण्डलियों के युगल के बीच अन्योन्य प्रेरकत्व की परिभाषा लिखिए । एक-दूसरे पर लिपटी हुई दो लम्बी समाक्ष परिनालिकाओं, जिनकी लम्बाइयाँ समान हैं, के अन्योन्य प्रेरकत्व के लिए व्यंजक व्युत्पन्न कीजिए ।

3

अथवा

किसी कुण्डली के स्वप्रेरकत्व की परिभाषा लिखिए । किसी विद्युत्-वाहक बल (emf) के स्रोत से संयोजित प्रेरक L में संचित ऊर्जा के लिए व्यंजक प्राप्त कीजिए ।

3

Define mutual inductance between a pair of coils. Derive an expression for the mutual inductance of two long coaxial solenoids of same length wound one over the other.

OR

Define self-inductance of a coil. Obtain the expression for the energy stored in an inductor L connected across a source of emf.

15. निम्नलिखित के लिए कारण सहित व्याख्या कीजिए :

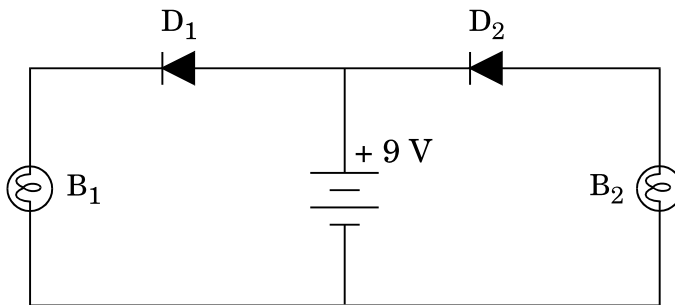
3

- (a) किसी प्रकाश-विद्युत् सेल में प्रकाश-विद्युत् धारा का मान आपतित विकिरणों की तीव्रता में वृद्धि के साथ बढ़ता है ।
- (b) किसी दिए गए प्रकाश-सुग्राही पृष्ठ के लिए, जिसमें विभिन्न पृष्ठों के लिए ढलान समान रहती है, निरोधी विभव (V_0) आपतित विकिरणों की आवृत्ति (ν) के साथ रैखिकतः परिवर्तित होता है ।
- (c) प्रकाशिक-इलेक्ट्रॉनों की अधिकतम गतिज ऊर्जा आपतित विकिरणों की तीव्रता पर निर्भर नहीं करती है ।

Explain giving reasons for the following :

- (a) Photoelectric current in a photocell increases with the increase in the intensity of the incident radiation.
- (b) The stopping potential (V_0) varies linearly with the frequency (ν) of the incident radiation for a given photosensitive surface with the slope remaining the same for different surfaces.
- (c) Maximum kinetic energy of the photoelectrons is independent of the intensity of incident radiation.

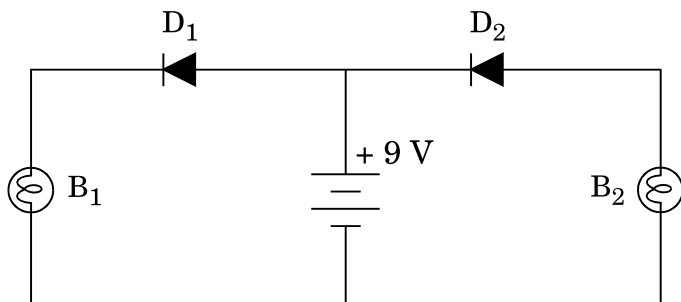
16. (a) निम्नलिखित आरेख में B_1 और B_2 में से कौन-सा बल्ब दीप्त होगा और क्यों ?



- (b) प्रदीप्त p-n संधि सौर सेल का आरेख खींचिए ।
- (c) उन तीन प्रक्रियाओं की संक्षेप में व्याख्या कीजिए जिनके कारण किसी सौर सेल में विद्युत्-वाहक बल (emf) उत्पन्न होता है ।

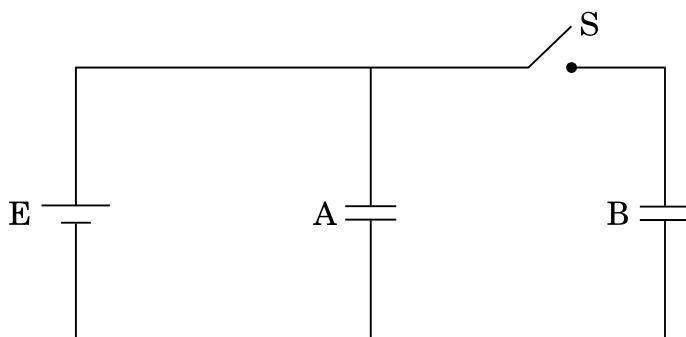
3

- (a) In the following diagram, which bulb out of B_1 and B_2 will glow and why ?

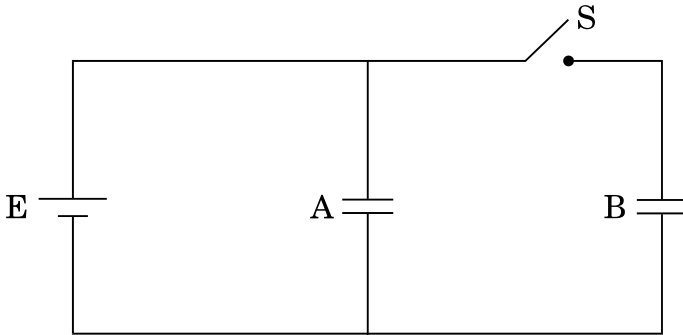


- (b) Draw a diagram of an illuminated p-n junction solar cell.
- (c) Explain briefly the three processes due to which generation of emf takes place in a solar cell.

17. दो सर्वसम समान्तर पट्टिका संधारित्र A और B किसी V वोल्ट की बैटरी से संयोजित हैं और स्विच S बन्द है । स्विच को अब खोल दिया जाता है और इन संधारित्रों की पट्टिकाओं के रिक्त स्थान के बीच परावैद्युतांक K का कोई परावैद्युत भर दिया जाता है । इन दोनों संधारित्रों में परावैद्युत भरने से पूर्व और परावैद्युत भरने के पश्चात् संचित कुल स्थिर-वैद्युत ऊर्जा का अनुपात ज्ञात कीजिए ।



Two identical parallel plate capacitors A and B are connected to a battery of V volts with the switch S closed. The switch is now opened and the free space between the plates of the capacitors is filled with a dielectric of dielectric constant K . Find the ratio of the total electrostatic energy stored in both capacitors before and after the introduction of the dielectric.



18. (a) आयाम मॉडुलन किस प्रकार किया जाता है ?
 (b) किसी आयाम मॉडुलित तरंग के दो पार्श्व बैंडों की आवृत्तियाँ क्रमशः 640 kHz और 660 kHz हैं । वाहक और मॉडुलक सिग्नल की आवृत्तियाँ ज्ञात कीजिए ।
 आयाम मॉडुलन के लिए आवश्यक बैंड चौड़ाई क्या है ?

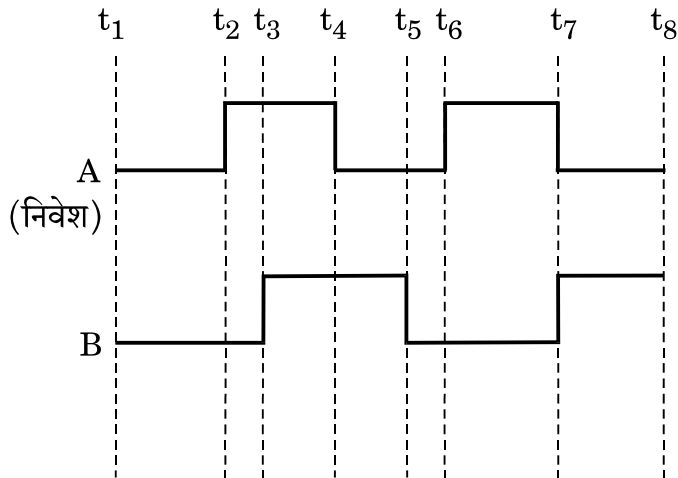
3

- (a) How is amplitude modulation achieved ?
 (b) The frequencies of two side bands in an AM wave are 640 kHz and 660 kHz respectively. Find the frequencies of carrier and modulating signal. What is the bandwidth required for amplitude modulation ?

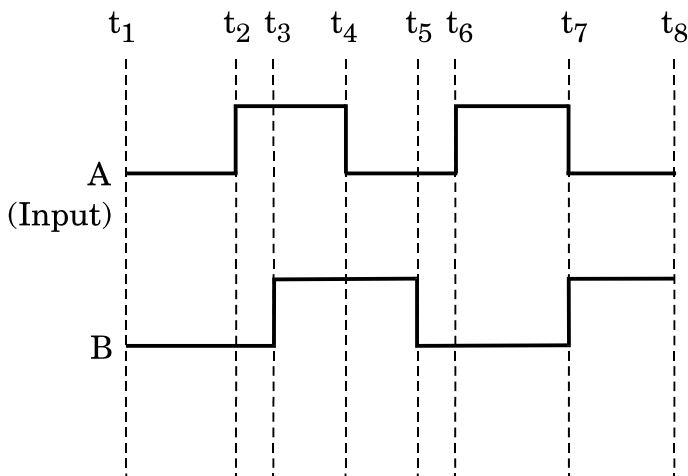
19. (a) उभयनिष्ठ उत्सर्जक विन्यास में किसी ट्रांज़िस्टर के अभिलाक्षणिकों के अध्ययन के लिए परिपथ आरेख खींचिए । संक्षेप में व्याख्या कीजिए और यह दर्शाइए कि निवेशी और निर्गत अभिलाक्षणिक किस प्रकार खींचे जाते हैं ।

- (b) आरेख में किसी लॉजिक गेट के दो निवेशी तरंगरूपों A और B को दर्शाया गया है । किसी OR गेट के लिए निर्गत तरंगरूप खींचिए । इस लॉजिक गेट के लिए सत्यमान सारणी लिखिए और इसका तर्क प्रतीक खींचिए ।

3

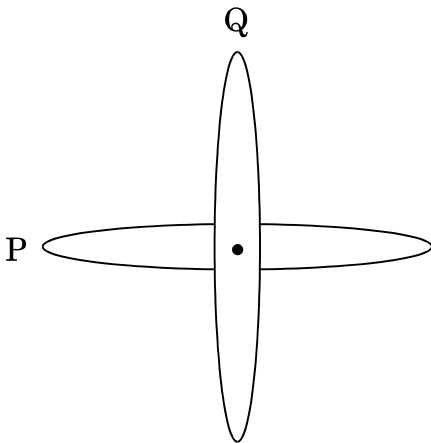


- (a) Draw the circuit diagram for studying the characteristics of a transistor in common emitter configuration. Explain briefly and show how input and output characteristics are drawn.
- (b) The figure shows input waveforms A and B to a logic gate. Draw the output waveform for an OR gate. Write the truth table for this logic gate and draw its logic symbol.

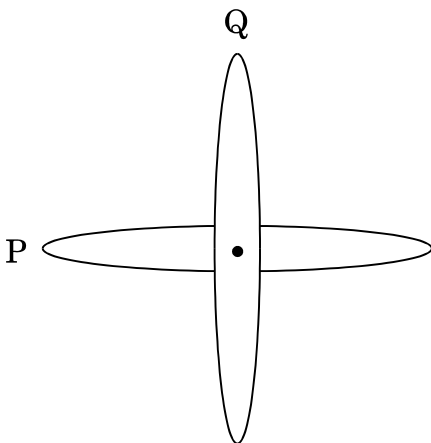


20. दो सर्वसम पाश P और Q जिनमें दोनों की त्रिज्याएँ 5 cm हैं, चित्र में दर्शाए अनुसार लम्बवत् तलों में इस प्रकार रखे हैं कि इनके केन्द्र उभयनिष्ठ हैं । यदि इनमें से क्रमशः 3 A और 4 A धाराएँ प्रवाहित हो रही हैं, तो इन दोनों कुण्डलियों के उभयनिष्ठ केन्द्र पर नेट चुम्बकीय क्षेत्र का परिमाण और दिशा ज्ञात कीजिए ।

3



Two identical loops P and Q each of radius 5 cm are lying in perpendicular planes such that they have a common centre as shown in the figure. Find the magnitude and direction of the net magnetic field at the common centre of the two coils, if they carry currents equal to 3 A and 4 A respectively.



21. किसी व्यापकीकृत संचार व्यवस्था का ब्लॉक आरेख खींचिए । निम्नलिखित में प्रत्येक के कार्य लिखिए :

3

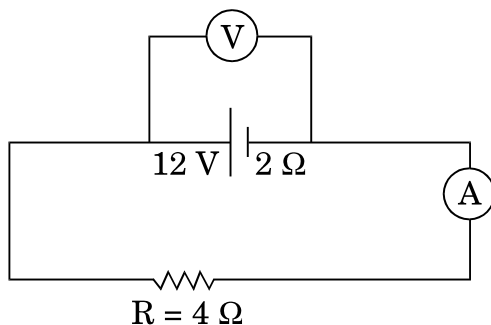
- (a) प्रेषित्र
- (b) चैनल
- (c) अभिग्राही

Draw a block diagram of a generalized communication system. Write the functions of each of the following :

- (a) Transmitter
- (b) Channel
- (c) Receiver

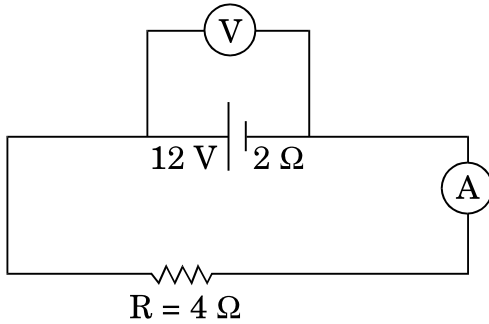
22. (a) दिए गए प्रतिरोधक के सिरों पर अनुप्रयुक्त विभवान्तर को परिवर्तित करने पर प्रति सेकण्ड उत्पन्न ऊष्मा 9 गुनी हो गई । अनुप्रयुक्त विभवान्तर में किस गुणक द्वारा परिवर्तन किया गया ?
- (b) दर्शाए गए आरेख में, किसी स्रोत के टर्मिनलों से एक ऐमीटर A और $4\ \Omega$ का एक प्रतिरोधक संयोजित किया गया है । स्रोत का आंतरिक प्रतिरोध $2\ \Omega$ और विद्युत्-वाहक बल (emf) 12 V है । वोल्टमीटर और ऐमीटर के पाठ्यांक परिकल्पित कीजिए ।

3



- (a) The potential difference applied across a given resistor is altered so that the heat produced per second increases by a factor of 9. By what factor does the applied potential difference change ?

- (b) In the figure shown, an ammeter A and a resistor of $4\ \Omega$ are connected to the terminals of the source. The emf of the source is 12 V having an internal resistance of $2\ \Omega$. Calculate the voltmeter and ammeter readings.



खण्ड द

SECTION D

23. आशा की माताजी ने चेर्नोबिल में हुई दुर्घटना के विषय में एक लेख समाचार-पत्र में पढ़ा। वह इस लेख के विषय में कुछ अधिक नहीं समझ पायीं और इस लेख से सम्बन्धित कुछ प्रश्न आशा से पूछे। उसने जो कुछ कक्षा XII में भौतिकी में सीखा था, उसी के आधार पर अपनी माताजी के प्रश्नों के उत्तर देने का प्रयास किया।

- (a) चेर्नोबिल में जहाँ दुर्घटना हुई वहाँ पर क्या प्रतिष्ठापित था ? आपके विचार से इस दुर्घटना का क्या कारण था ?
- (b) चेर्नोबिल पर प्रतिष्ठापन में ऊर्जा मुक्त होने की प्रक्रिया की व्याख्या कीजिए।
- (c) आपके विचार से आशा और उसकी माताजी द्वारा प्रदर्शित मूल्य क्या थे ?

4

Asha's mother read an article in the newspaper about a disaster that took place at Chernobyl. She could not understand much from the article and asked a few questions from Asha regarding the article. Asha tried to answer her mother's questions based on what she learnt in Class XII Physics.

- (a) What was the installation at Chernobyl where the disaster took place ? What, according to you, was the cause of this disaster ?
- (b) Explain the process of release of energy in the installation at Chernobyl.
- (c) What, according to you, were the values displayed by Asha and her mother ?

खण्ड य
SECTION E

24. (a) तरंगाग्र की परिभाषा लिखिए। हाइगेन्स सिद्धान्त का उपयोग करके अपवर्तन के नियम सत्यापित कीजिए।
- (b) प्रकाश के प्रकीर्णन की प्रक्रिया द्वारा रैखिकतः ध्रुवित प्रकाश किस प्रकार प्राप्त किया जाता है? जब काँच का अपवर्तनांक = 1.5 है, तो वायु – काँच अंतरापृष्ठ के लिए ब्रूस्टर कोण ज्ञात कीजिए।

5

अथवा

- (a) सम्पर्क में रखे दो पतले उत्तल लेंसों के संयोजन द्वारा प्रतिबिम्ब बनना दर्शाने के लिए किरण आरेख खींचिए। लेंसों की फोकस दूरी के पदों में इस संयोजन की क्षमता के लिए व्यंजक प्राप्त कीजिए।
- (b) वायु से काँच के समबाहु प्रिज़्म से गुज़रती हुई कोई प्रकाश किरण उस समय न्यूनतम विचलित होती है, जब आपतन कोण का मान प्रिज़्म कोण के मान का $\frac{3}{4}$ होता है। प्रिज़्म में प्रकाश की चाल परिकलित कीजिए।

5

- (a) Define wavefront. Use Huygens' principle to verify the laws of refraction.
- (b) How is linearly polarised light obtained by the process of scattering of light? Find the Brewster angle for air – glass interface, when the refractive index of glass = 1.5.

OR

- (a) Draw a ray diagram to show the image formation by a combination of two thin convex lenses in contact. Obtain the expression for the power of this combination in terms of the focal lengths of the lenses.
- (b) A ray of light passing from air through an equilateral glass prism undergoes minimum deviation when the angle of incidence is $\frac{3}{4}$ th of the angle of prism. Calculate the speed of light in the prism.

25. (a) लम्बाई '2a' के किसी द्विध्रुव के कारण उसकी अक्षीय रेखा पर द्विध्रुव के केन्द्र से r दूरी पर स्थित किसी बिन्दु पर विद्युत्-क्षेत्र E के लिए व्यंजक व्युत्पन्न कीजिए ।
- (b) $r \gg a$ के लिए E और r के बीच ग्राफ़ खींचिए ।
- (c) यदि यह द्विध्रुव किसी एकसमान बाह्य विद्युत्-क्षेत्र E_0 में स्थित हो, तो इस द्विध्रुव की स्थायी और अस्थायी साम्य की स्थिति का आरेखीय निरूपण कीजिए और दोनों ही प्रकरणों में इस द्विध्रुव पर कार्यरत बल-आघूर्णों के लिए व्यंजक लिखिए ।

5

अथवा

- (a) गाउस प्रमेय का उपयोग करके पृष्ठीय आवेश घनत्व σ की किसी एकसमान आवेशित अनन्तः बड़ी समतल पतली शीट के कारण विद्युत्-क्षेत्र ज्ञात कीजिए ।
- (b) किसी अनन्तः बड़ी समतल पतली शीट का एकसमान पृष्ठीय आवेश घनत्व $+\sigma$ है । किसी बिन्दु आवेश q को अनन्त से इस आवेशित समतल शीट के सम्मुख दूरी r पर स्थित किसी बिन्दु तक लाने में किए गए कार्य के लिए व्यंजक प्राप्त कीजिए ।

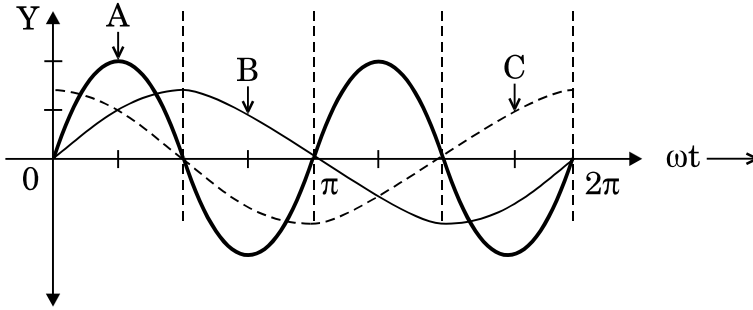
5

- (a) Derive an expression for the electric field E due to a dipole of length '2a' at a point distant r from the centre of the dipole on the axial line.
- (b) Draw a graph of E versus r for $r \gg a$.
- (c) If this dipole were kept in a uniform external electric field E_0 , diagrammatically represent the position of the dipole in stable and unstable equilibrium and write the expressions for the torque acting on the dipole in both the cases.

OR

- (a) Use Gauss's theorem to find the electric field due to a uniformly charged infinitely large plane thin sheet with surface charge density σ .
- (b) An infinitely large thin plane sheet has a uniform surface charge density $+\sigma$. Obtain the expression for the amount of work done in bringing a point charge q from infinity to a point, distant r , in front of the charged plane sheet.

26. किसी युक्ति 'X' को किसी ac स्रोत $V = V_0 \sin \omega t$ से संयोजित किया गया है। निम्नलिखित ग्राफ में दिखाए गए एक चक्र में वोल्टता, धारा और शक्ति के विचरण को दर्शाया गया है :



- युक्ति 'X' को पहचानिए ।
- इन वक्रों A, B और C में कौन वोल्टता, धारा और उपभुक्त शक्ति को परिपथ में निरूपित करते हैं ? अपने उत्तर की पुष्टि कीजिए ।
- ac स्रोत की आवृत्ति के साथ इसकी प्रतिबाधा किस प्रकार विचरण करती है ? ग्राफ द्वारा दर्शाइए ।
- परिपथ में धारा और ac वोल्टता से इसके कला-सम्बन्ध के लिए व्यंजक प्राप्त कीजिए ।

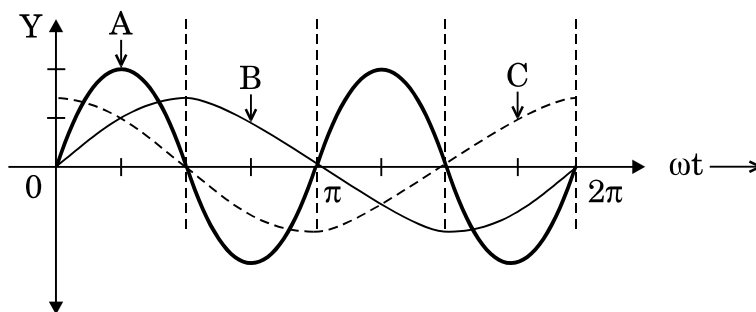
5

अथवा

- ac जनित्र का नामांकित आरेख खींचिए । चुम्बकीय क्षेत्र \vec{B} की उपस्थिति में घूर्णन करती हुई N फेरों की किसी कुण्डली, जिसमें प्रत्येक की अनुप्रस्थ-काट का क्षेत्रफल A है, में प्रेरित विद्युत्-वाहक बल (emf) के लिए व्यंजक प्राप्त कीजिए ।
- पूर्व से पश्चिम की ओर विस्तारित 10 m लम्बी कोई क्षैतिज चालक छड़, 5.0 ms^{-1} की चाल से, $0.3 \times 10^{-4} \text{ Wb m}^{-2}$ के पृथ्वी के चुम्बकीय क्षेत्र के क्षैतिज घटक के समकोण पर गिर रही है । इस छड़ में प्रेरित विद्युत्-वाहक बल (emf) का तात्क्षणिक मान ज्ञात कीजिए ।

5

A device 'X' is connected to an ac source $V = V_0 \sin \omega t$. The variation of voltage, current and power in one cycle is shown in the following graph :

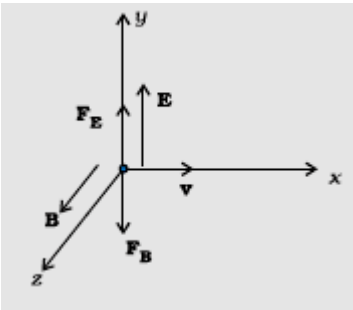


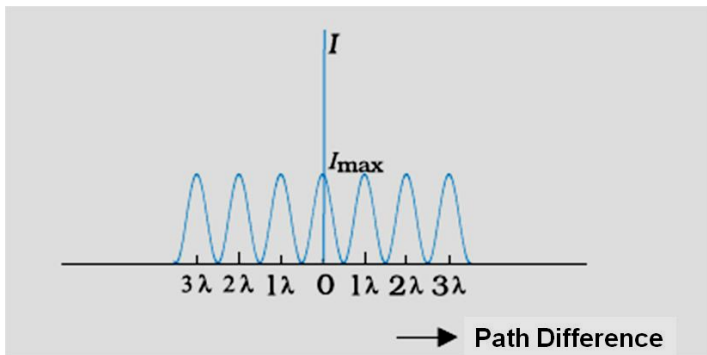
- Identify the device 'X'.
- Which of the curves A, B and C represent the voltage, current and the power consumed in the circuit ? Justify your answer.
- How does its impedance vary with frequency of the ac source ? Show graphically.
- Obtain an expression for the current in the circuit and its phase relation with ac voltage.

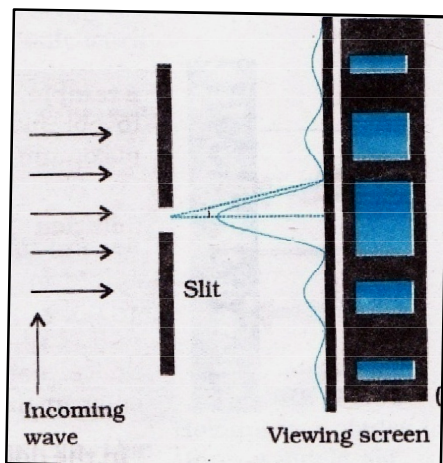
OR

- Draw a labelled diagram of an ac generator. Obtain the expression for the emf induced in the rotating coil of N turns each of cross-sectional area A , in the presence of a magnetic field \vec{B} .
- A horizontal conducting rod 10 m long extending from east to west is falling with a speed 5.0 ms^{-1} at right angles to the horizontal component of the Earth's magnetic field, $0.3 \times 10^{-4} \text{ Wb m}^{-2}$. Find the instantaneous value of the emf induced in the rod.

MARKING SCHEME

Q. No.	Expected Answer/ Value Points	Marks	Total Marks
Section A			
Q1	Q to P through ammeter and D to C through ammeter (Alternatively: Anticlockwise as seen from left in coil PQ clockwise as seen from left in coil CD)	$\frac{1}{2}$ $\frac{1}{2}$	1
Q2	Speed of electromagnetic wave, $c = \frac{E_0}{B_0}$.	1	1
Q3	i. Nichrome ii. $R_{Ni} > R_{Cu}$ (or Resistivity _{Ni} > Resistivity _{Cu})	$\frac{1}{2}$ $\frac{1}{2}$	1
Q4	i. Decreases ii. $n_{Violet} > n_{Red}$ (Also accept if the student writes $\lambda_V < \lambda_R$)	$\frac{1}{2}$ $\frac{1}{2}$	1
Q5	Photoelectric Effect (/Raman Effect/ Compton Effect)	1	1
SECTION B			
Q6	<div style="border: 1px solid black; padding: 5px; margin-bottom: 10px;"> Condition i. For directions of $\vec{E}, \vec{B}, \vec{v}$ 1 ii. For magnitudes of $\vec{E}, \vec{B}, \vec{v}$ 1 </div> i. The velocity \vec{v} , of the charged particles, and the \vec{E} and \vec{B} vectors, should be mutually perpendicular. Also the forces on q , due to \vec{E} and \vec{B} , must be oppositely directed. (Also accept if the student draws a diagram to show the directions.) <div style="text-align: center; margin-top: 20px;">  </div>	$\frac{1}{2}$ $\frac{1}{2}$	

	<p>ii. $qE = qvB$ $or\ v = \frac{E}{B}$</p> <p>[Alternatively, The student may write: Force due to electric field = $q\vec{E}$ Force due to magnetic field = $q(\vec{v} \times \vec{B})$ The required condition is $q\vec{E} = -q(\vec{v} \times \vec{B})$ $[or\ \vec{E} = -(\vec{v} \times \vec{B}) = (\vec{B} \times \vec{v})]$ (Note: Award 1 mark only if the student just writes: “The forces, on the charged particle, due to the electric and magnetic fields, must be equal and opposite to each other”)]</p>	$\frac{1}{2}$ $\frac{1}{2}$ $\frac{1}{2}$ $\frac{1}{2}$	2						
Q7	<table border="1"> <tr> <td>(a) Identification</td> <td>$\frac{1}{2} + \frac{1}{2}$</td> </tr> <tr> <td>(b) One use each</td> <td>$\frac{1}{2} + \frac{1}{2}$</td> </tr> </table> <p>a) X-rays/ Gamma rays One use of the name given b) Infrared/Visible/Microwave One use of the name given (Note: Award $\frac{1}{2}$ mark for each correct use (relevant to the name chosen) even if the names chosen are incorrect.)</p>	(a) Identification	$\frac{1}{2} + \frac{1}{2}$	(b) One use each	$\frac{1}{2} + \frac{1}{2}$	$\frac{1}{2}$ $\frac{1}{2}$ $\frac{1}{2}$ $\frac{1}{2}$	2		
(a) Identification	$\frac{1}{2} + \frac{1}{2}$								
(b) One use each	$\frac{1}{2} + \frac{1}{2}$								
Q8	<table border="1"> <tr> <td>Interference pattern</td> <td>$\frac{1}{2}$</td> </tr> <tr> <td>Diffraction pattern</td> <td>$\frac{1}{2}$</td> </tr> <tr> <td>Two Differences</td> <td>$\frac{1}{2} + \frac{1}{2}$</td> </tr> </table> <div style="text-align: center;">  </div>	Interference pattern	$\frac{1}{2}$	Diffraction pattern	$\frac{1}{2}$	Two Differences	$\frac{1}{2} + \frac{1}{2}$	$\frac{1}{2}$	
Interference pattern	$\frac{1}{2}$								
Diffraction pattern	$\frac{1}{2}$								
Two Differences	$\frac{1}{2} + \frac{1}{2}$								



Differences

Interference	Diffraction
All maxima have equal intensity	Maxima have different (/rapidly decreasing) intensity
All fringes have equal width.	Different (/changing) width.
Superposition of two wavefronts	Superposition of wavelets from the same wavefront

(Any two)

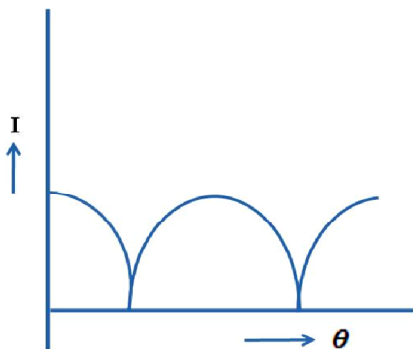
OR

Expression for intensity of polarized beam	1
Plot of intensity variation with angle	1

Intensity is $\frac{I_0}{2} \cos^2 \theta$ (if I_0 is the intensity of unpolarised light.)

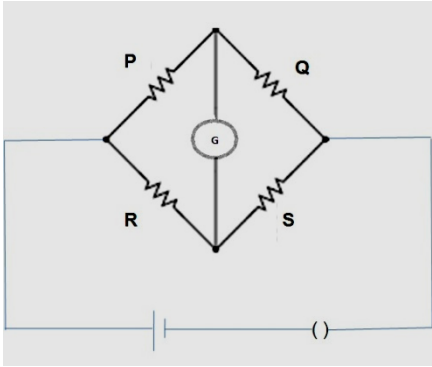
Intensity is $I \cos^2 \theta$ (if I is the intensity of polarized light.)

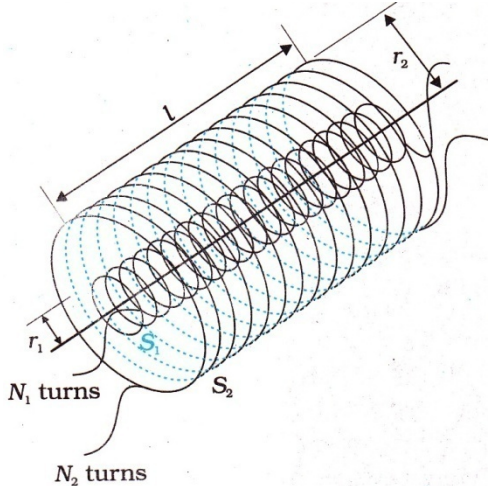
(Award $\frac{1}{2}$ mark if the student writes the expression as $I_0 \cos^2 \theta$)



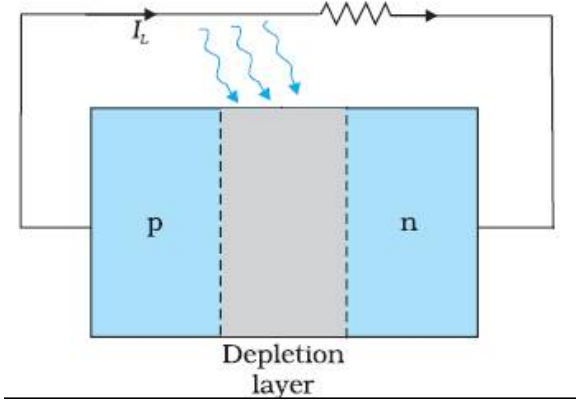
Q9	<div style="border: 1px solid black; padding: 5px; margin-bottom: 10px;"> <div style="display: flex; justify-content: space-between;"> <div>Formula</div> <div>½</div> </div> <div style="display: flex; justify-content: space-between;"> <div>Calculation</div> <div>1½</div> </div> </div> $\frac{1}{\lambda} = R \left(\frac{1}{n_1^2} - \frac{1}{n_2^2} \right)$ <p>∴ For Balmer Series: $(\lambda_B)_{short} = 4/R$</p> <p>and For Lyman Series: $(\lambda_L)_{short} = 1/R$</p> <p style="text-align: center;">∴ $\lambda_B = 913.4 \times 4 \text{ Å} = 3653.6 \text{ Å}$</p>	<div style="text-align: center;">½</div> <div style="text-align: center;">½</div> <div style="text-align: center;">½</div> <div style="text-align: center;">½</div>	2
Q10	<div style="border: 1px solid black; padding: 5px; margin-bottom: 10px;"> <div style="display: flex; justify-content: space-between;"> <div>a) Two properties for making permanent magnet</div> <div>½ + ½</div> </div> <div style="display: flex; justify-content: space-between;"> <div>b) Two properties for making an electromagnet</div> <div>½ + ½</div> </div> </div> <p>a) For making permanent magnet:</p> <p style="margin-left: 20px;">(i) High retentivity</p> <p style="margin-left: 20px;">(ii) High coercitivity</p> <p style="margin-left: 20px;">(iii) High permeability</p> <p style="margin-left: 40px;">(Any two)</p> <p>b) For making electromagnet:</p> <p style="margin-left: 20px;">(i) High permeability</p> <p style="margin-left: 20px;">(ii) Low retentivity</p> <p style="margin-left: 20px;">(iii) Low coercivity</p> <p style="margin-left: 40px;">(Any two)</p>	<div style="text-align: center;">½ + ½</div> <div style="text-align: center;">½ + ½</div>	2
SECTION C			
Q11	<div style="border: 1px solid black; padding: 5px;"> <div style="display: flex; justify-content: space-between;"> <div>a. Calculation of wavelength, frequency and speed</div> <div>½ + ½ + ½</div> </div> <div style="display: flex; justify-content: space-between;"> <div>b. Lens Maker's Formula</div> <div>½</div> </div> <div style="display: flex; justify-content: space-between;"> <div>Calculation of R</div> <div>1</div> </div> </div>		

	<p>a) $\lambda = \frac{589 \text{ nm}}{1.33} = 442.8 \text{ nm}$</p> <p>Frequency $\nu = \frac{3 \times 10^8 \text{ ms}^{-1}}{589 \text{ nm}} = 5.09 \times 10^{12} \text{ Hz}$</p> <p>Speed $v = \frac{3 \times 10^8}{1.33} \text{ m/s} = 2.25 \times 10^8 \text{ m/s}$</p> <p>b) $\frac{1}{f} = \left[\frac{\mu_2}{\mu_1} - 1 \right] \left[\frac{1}{R_1} - \frac{1}{R_2} \right]$</p> <p>$\therefore \frac{1}{20} = \left[\frac{1.55}{1} - 1 \right] \frac{2}{R}$</p> <p>$\therefore R = (20 \times 1.10) \text{ cm} = 22 \text{ cm}$</p>	<p>$\frac{1}{2}$</p> <p>$\frac{1}{2}$</p> <p>$\frac{1}{2}$</p> <p>$\frac{1}{2}$</p> <p>$\frac{1}{2}$</p> <p>$\frac{1}{2}$</p>	<p>3</p>
Q12	<div style="border: 1px solid black; padding: 5px; margin-bottom: 10px;"> <p>(a) Ray Diagram for reflecting Telescope 2</p> <p>(b) Two advantages of it over refracting type of telescope $\frac{1}{2} + \frac{1}{2}$</p> </div> <p>(a) Ray Diagram Arrow marking Labelling</p> <p>(b) Advantages</p> <ul style="list-style-type: none"> (i) Spherical aberration is absent (ii) Chromatic aberration is absent (iii) Mounting is easier (iv) Polishing is done on only one side (v) Light gathering power is more <p>(Any two)</p>	<p>1</p> <p>$\frac{1}{2}$</p> <p>$\frac{1}{2}$</p> <p>$\frac{1}{2} + \frac{1}{2}$</p>	<p>3</p>

Q13	<div data-bbox="370 205 1086 327" style="border: 1px solid black; padding: 5px;"> <p>a) Principle of meter bridge 1</p> <p>b) Relation between l_1, l_2, and S 2</p> </div> <p>a) The principle of working of a meter bridge is same as that of a balanced Wheatstone bridge.</p> <p>(Alternatively:</p> <div data-bbox="597 520 1026 884" style="text-align: center;">  </div> <p>When $i_g=0$, then $\frac{P}{Q} = \frac{R}{S}$)</p> <p>b) $\frac{R}{S} = \frac{l_1}{100-l_1}$</p> <p>When X is connected in parallel:</p> $\frac{R}{\left(\frac{XS}{X+S}\right)} = \frac{l_2}{100-l_2}$ <p>On solving, we get $X = \frac{l_1 S (100-l_2)}{100(l_2-l_1)}$</p>	<p>1</p> <p>$\frac{1}{2}$</p> <p>$\frac{1}{2}$</p> <p>1</p>	3
Q14	<div data-bbox="370 1446 1117 1577" style="border: 1px solid black; padding: 5px;"> <p>Definition of mutual inductance 1</p> <p>Derivation of mutual inductance for two long solenoids 2</p> </div> <p>(i) Mutual inductance is numerically equal to the induced emf in the secondary coil when the current in the primary coil changes by unity.</p> <p><u>Alternatively:</u> Mutual inductance is numerically equal to the magnetic flux linked with one coil/secondary coil</p>		

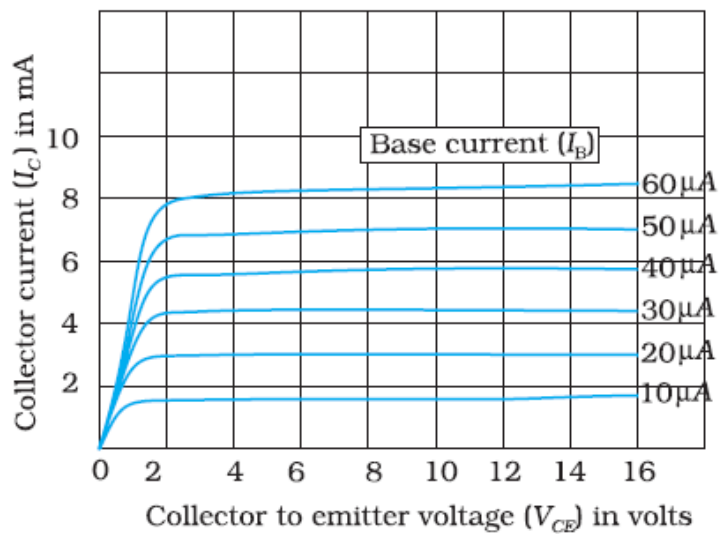
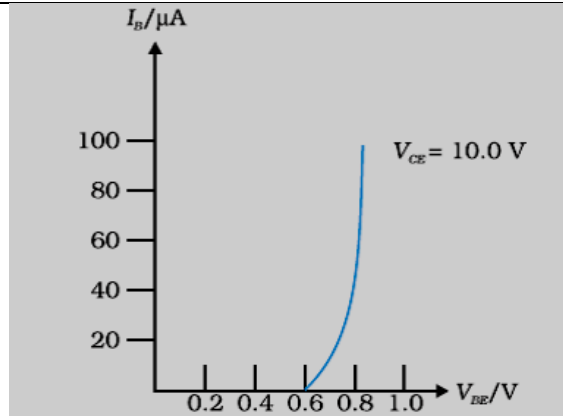
	when unit current flows through the other coil /primary coil.		1					
(ii)	<div></div>		1/2					
	Let a current, i_2 , flow in the secondary coil							
	$\therefore B_2 = \frac{\mu_0 N_2 i_2}{l}$		1/2					
	\therefore Flux linked with the primary coil							
	$= N_1 A_1 B_2 = \frac{\mu_0 N_2 N_1 A_1 i_2}{l} = M_{12} i_2$		1/2					
	Hence, $M_{12} = \frac{\mu_0 N_2 N_1 A_2}{l} = \mu_0 n_2 n_1 A_1 l \left(n_1 = \frac{N_1}{l}; n_2 = \frac{N_2}{l} \right)$		1/2					
	<div>OR</div> <table border="1"><tr><td>Definition of self inductance</td><td>1</td></tr><tr><td>Expression for energy stored</td><td>2</td></tr></table>	Definition of self inductance	1	Expression for energy stored	2			3
Definition of self inductance	1							
Expression for energy stored	2							
(i)	Self inductance, of a coil, is numerically equal to the emf induced in that coil when the current in it changes at a unit rate. (Alternatively: The self inductance of a coil equals the flux linked with it when a unit current flows through it.)		1					

	<p>(ii) The work done against back /induced emf is stored as magnetic potential energy.</p> <p>The rate of work done, when a current i is passing through the coil, is</p> $\frac{dW}{dt} = \varepsilon i = \left(L \frac{di}{dt}\right)i$ $\therefore W = \int dW = \int_0^I Lidi$ $= \frac{1}{2} Li^2$	<p>$\frac{1}{2}$</p> <p>$\frac{1}{2}$</p> <p>$\frac{1}{2}$</p> <p>$\frac{1}{2}$</p>	3
Q15	<div style="border: 1px solid black; padding: 5px; margin-bottom: 10px;"> <p>(a) Variation of photocurrent with intensity of radiation 1</p> <p>(b) Stopping potential versus frequency for different materials 1</p> <p>(c) Independence of maximum kinetic energy of the emitted photoelectrons 1</p> </div> <p>(a) The collision of a photon can cause emission of a photoelectron(above the threshold frequency). As intensity increases, number of photons increases. Hence the current increases.</p> <p>(b) We have, $eV_s = h(\nu - \nu_0)$</p> $\therefore V_s = \frac{h}{e}(\nu) + \left(-\frac{h\nu_0}{e}\right)$ <p>\therefore Graph of V_s with ν is a straight line and slope $(= h/e)$ is a constant.</p> <p>(c) Maximum for different surfaces K.E = $h(\nu - \nu_0)$</p> <p>Hence, it depends on the frequency and not on the intensity of the incident radiation.</p>	<p>1</p> <p>$\frac{1}{2}$</p> <p>$\frac{1}{2}$</p> <p>$\frac{1}{2}$</p> <p>$\frac{1}{2}$</p>	3

Q16	<div data-bbox="363 207 1118 348" style="border: 1px solid black; padding: 5px;"> <p>(a) Identification of the bulb and reason $\frac{1}{2} + \frac{1}{2}$</p> <p>(b) Diagram of solar cell $\frac{1}{2}$</p> <p>(c) Names of the processes $\frac{1}{2} + \frac{1}{2} + \frac{1}{2}$</p> </div> <p>(a) Bulb B₁ glows Diode D₁ is forward biased.</p> <p>(b) Diagram</p> <div data-bbox="526 606 1097 1005" style="text-align: center;">  </div> <p>(c) Generation: Incident light generates electron-hole pairs.</p> <p>Separation: Electric field of the depletion layer separates the electrons and holes.</p> <p>Collection: Electrons and holes are collected at the n and p side contacts.</p>	<p>$\frac{1}{2}$</p> <p>$\frac{1}{2}$</p> <p>$\frac{1}{2}$</p> <p>$\frac{1}{2}$</p> <p>$\frac{1}{2}$</p> <p>$\frac{1}{2}$</p> <p>3</p>	
Q17	<div data-bbox="342 1629 1175 1818" style="border: 1px solid black; padding: 5px;"> <p>Formula for energy stored $\frac{1}{2}$</p> <p>Energy stored before 1</p> <p>Energy stored after 1</p> <p>Ratio $\frac{1}{2}$</p> </div>		

	<p>Energy stored = $\frac{1}{2} CV^2 (= \frac{1}{2} \frac{Q^2}{C})$</p> <p>Net capacitance with switch S closed = $C + C = 2C$</p> <p>\therefore Energy stored = $\frac{1}{2} \times 2C \times V^2 = CV^2$</p> <p>After the switch S is opened, capacitance of each capacitor = KC</p> <p>\therefore Energy stored in capacitor A = $\frac{1}{2} KCV^2$</p> <p>For capacitor B,</p> <p>Energy stored = $\frac{1}{2} \frac{Q^2}{KC} = \frac{1}{2} \frac{C^2 V^2}{KC} = \frac{1}{2} \frac{CV^2}{K}$</p> <p>$\therefore$ Total Energy stored = $\frac{1}{2} KCV^2 + \frac{1}{2} \frac{CV^2}{K} = \frac{1}{2} CV^2 \left(K + \frac{1}{K} \right)$</p> <p>$= \frac{1}{2} CV^2 \left(\frac{K^2 + 1}{K} \right)$</p> <p>$\therefore$ Required ratio = $\frac{2CV^2 \cdot K}{CV^2(K^2 + 1)} = \frac{2K}{(K^2 + 1)}$</p>	$\frac{1}{2}$ $\frac{1}{2}$ $\frac{1}{2}$ $\frac{1}{2}$ $\frac{1}{2}$ $\frac{1}{2}$	3
Q18	<div style="border: 1px solid black; padding: 5px; margin-bottom: 10px;"> <p>a) Achieving amplitude Modulation 1</p> <p>b) Stating the formulae $\frac{1}{2}$</p> <p>Calculation of v_c and v_m $\frac{1}{2} + \frac{1}{2}$</p> <p>Calculation of bandwidth $\frac{1}{2}$</p> </div> <p>a) Amplitude modulation can be achieved by applying the message signal, and the carrier wave, to a non linear (square law device) followed by a band pass filter.</p> <p>(Alternatively, The student may just draw the block diagram.)</p>		

	<p>(Alternatively, Amplitude modulation is achieved by superposing a message signal on a carrier wave in a way that causes the amplitude of the carrier wave to change in accordance with the message signal.)</p> <p>b) Frequencies of side bands are: $(v_c + v_m)$ and $(v_c - v_m)$</p> <p>$\therefore v_c + v_m = 660 \text{ kHz}$</p> <p>and $v_c - v_m = 640 \text{ kHz}$</p> <p>$\therefore v_c = 650 \text{ kHz}$</p> <p>$\therefore v_m = 10 \text{ kHz}$</p> <p>Bandwidth = $(660 - 640) \text{ kHz} = 20 \text{ kHz}$</p>	<p>1</p> <p>$\frac{1}{2}$</p> <p>$\frac{1}{2}$</p> <p>$\frac{1}{2}$</p> <p>$\frac{1}{2}$</p>	3										
Q19	<table border="1"> <tr> <td>a) Circuit diagram</td> <td>1</td> </tr> <tr> <td>Input characteristics</td> <td>$\frac{1}{2}$</td> </tr> <tr> <td>Output characteristics</td> <td>$\frac{1}{2}$</td> </tr> <tr> <td>b) Output pulse wave form</td> <td>$\frac{1}{2}$</td> </tr> <tr> <td>Truth table/Logic symbol</td> <td>$\frac{1}{2}$</td> </tr> </table>	a) Circuit diagram	1	Input characteristics	$\frac{1}{2}$	Output characteristics	$\frac{1}{2}$	b) Output pulse wave form	$\frac{1}{2}$	Truth table/Logic symbol	$\frac{1}{2}$		
a) Circuit diagram	1												
Input characteristics	$\frac{1}{2}$												
Output characteristics	$\frac{1}{2}$												
b) Output pulse wave form	$\frac{1}{2}$												
Truth table/Logic symbol	$\frac{1}{2}$												
		1											



(The Student can show only one curve)

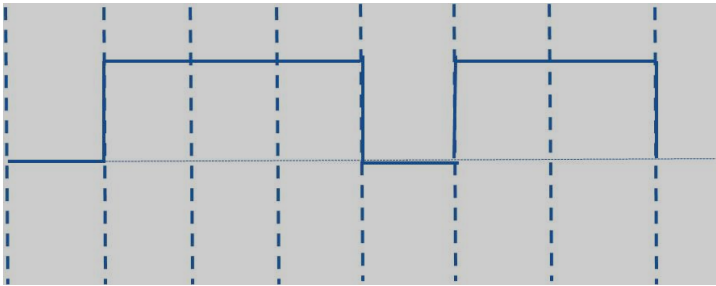
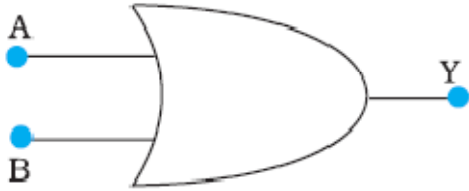
[Alternatively, The student may just write:

Input characteristics:

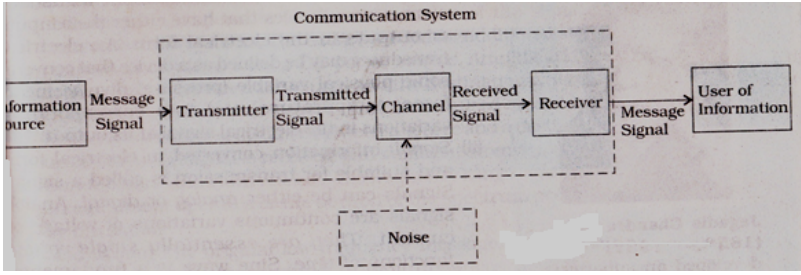

$(I_B) \text{ vs } (V_{BE})$ graph keeping $V_{CE} = \text{constant}$

Output characteristics:

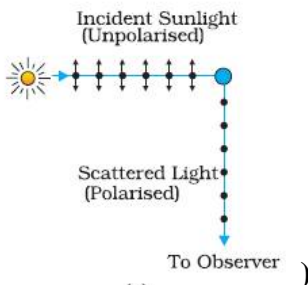
$(I_C) \text{ vs } (V_{CE})$ graph keeping $I_B = \text{constant}$]

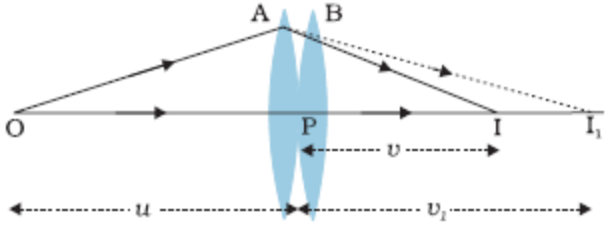
	<p style="text-align: center;"><u>Output waveform:</u></p> <div></div> <p>Truth Table:</p> <table><tr><th colspan="2">Input</th><th>Output</th></tr><tr><th>A</th><th>B</th><th>Y</th></tr><tr><td>0</td><td>0</td><td>0</td></tr><tr><td>0</td><td>1</td><td>1</td></tr><tr><td>1</td><td>0</td><td>1</td></tr><tr><td>1</td><td>1</td><td>1</td></tr></table> <p>and/or Logic symbol:</p> <div></div>	Input		Output	A	B	Y	0	0	0	0	1	1	1	0	1	1	1	1	<div>$\frac{1}{2}$</div> <div>$\frac{1}{2}$</div>	<div>3</div>
Input		Output																			
A	B	Y																			
0	0	0																			
0	1	1																			
1	0	1																			
1	1	1																			
<div>Q20</div>	<div><table><tr><td>Formula</td><td>$\frac{1}{2}$</td></tr><tr><td>Field due to each coil</td><td>$\frac{1}{2} + \frac{1}{2}$</td></tr><tr><td>Magnitude of resultant field</td><td>1</td></tr><tr><td>Direction of resultant field</td><td>$\frac{1}{2}$</td></tr></table></div>	Formula	$\frac{1}{2}$	Field due to each coil	$\frac{1}{2} + \frac{1}{2}$	Magnitude of resultant field	1	Direction of resultant field	$\frac{1}{2}$												
Formula	$\frac{1}{2}$																				
Field due to each coil	$\frac{1}{2} + \frac{1}{2}$																				
Magnitude of resultant field	1																				
Direction of resultant field	$\frac{1}{2}$																				

	<p>Field at the centre of a circular coil $= \frac{\mu_0 I}{2R}$</p> <p>Field due to coil $P = \frac{\mu_0 \times 3}{2 \times 5 \times 10^{-2}}$ tesla</p> <p>$= 12\pi \times 10^{-6}$ tesla</p> <p>Field due to coil $Q = \frac{\mu_0 \times 4}{2 \times 5 \times 10^{-2}}$ tesla</p> <p>$= 16\pi \times 10^{-6}$ tesla</p> <p>\therefore Resultant Field $= (\pi\sqrt{12^2 + 16^2})\mu\text{T}$</p> <p>$= (20\pi)\mu\text{T}$</p> <p>Let the field make an angle θ with the vertical</p> <p>$\tan \theta = \frac{12\pi \times 10^{-6}}{16\pi \times 10^{-6}} = \frac{3}{4}$</p> <p>$\theta = \tan^{-1} \frac{3}{4}$</p> <p>(Alternatively: $\theta' = \tan^{-1} \frac{4}{3}$, $\theta' =$ angle with the horizontal)</p> <p>[Note1: Award 2 marks if the student directly calculates B without calculating B_P and B_Q separately.]</p> <p>[Note 2: Some students may calculate the field B_Q and state that it also represents the resultant magnetic field (as coil P has been shown 'broken' and, therefore, cannot produce a magnetic field); They may be given 2 ½ marks for their (correct) calculation of B_Q]</p>	<p>½</p> <p>½</p> <p>½</p> <p>1</p> <p>½</p>	<p>3</p>
Q21	<p>Diagram of generalized communication system 1½</p> <p>Function of (a) transmitter (b) channel (c) receiver ½+ ½ + ½</p>		

	 <p>[Also accept the following diagram]</p>  <p>(a) Transmitter: A transmitter processes the incoming message signal so as to make it suitable for transmission through a channel and subsequent reception.</p> <p>(b) Channel: It carries the message signal from a transmitter to a receiver.</p> <p>(c) Receiver: A receiver extracts the desired message signals from the received signals at the channel output.</p>	<p>1 1/2</p> <p>1/2</p> <p>1/2</p> <p>1/2</p>	<p>3</p>
Q22	<div style="border: 1px solid black; padding: 5px; margin-bottom: 10px;"> <p>a) The factor by which the potential difference changes 1</p> <p>b) Voltmeter reading 1</p> <p>Ammeter Reading 1</p> </div> <p>a) $H = \frac{V^2}{R}$ $\therefore V$ increases by a factor of $\sqrt{9} = 3$</p> <p>b) Ammeter Reading $I = \frac{V}{R+r}$ $= \frac{12}{4+2} \text{ A} = 2 \text{ A}$ <p>Voltmeter Reading $V = E - Ir$ $= [12 - (2 \times 2)] \text{ V} = 8 \text{ V}$ (Alternatively, $V = iR = 2 \times 4 \text{ V} = 8 \text{ V}$)</p> </p>	<p>1/2</p> <p>1/2</p> <p>1/2</p> <p>1/2</p> <p>1/2</p>	<p>3</p>

SECTION D					
Q23	<div style="border: 1px solid black; padding: 5px;"> a) Name of the installation, the cause of disaster $\frac{1}{2} + \frac{1}{2}$ b) Energy release process 1 c) Values shown by Asha and mother 1+1 </div> <p>a) (i) Nuclear Power Plant:/‘Set-up’ for releasing Nuclear Energy/Energy Plant (Also accept any other such term)</p> <p>(ii) Leakage in the cooling unit/ Some defect in the set up.</p> <p>b) Nuclear Fission/Nuclear Energy Break up (/ Fission) of Uranium nucleus into fragments</p> <p>c) Asha: Helpful, Considerate, Keen to Learn, Modest Mother: Curious, Sensitive, Eager to Learn, Has no airs (Any one such value in each case)</p>				
					4
SECTION E					
Q24	<div style="border: 1px solid black; padding: 5px;"> a) Definition of wavefront $\frac{1}{2}$ Verifying laws of refraction by Huygen’s principle 3 b) Polarisation by scattering $\frac{1}{2}$ Calculation of Brewster’s angle 1 </div> <p>a) The wavefront is the common locus of all points which are in phase(/surface of constant phase)</p> <p>Let a plane wavefront be incident on a surface separating two media as shown. Let v_1 and v_2 be the velocities of light in the rarer medium and denser medium respectively. From the diagram</p> $BC = v_1 t \text{ and } AD = v_2 t$				
					1
					$\frac{1}{2}$

<div>$\sin i = \frac{BC}{AC} \text{ and } \sin r = \frac{AD}{AC}$$\therefore \frac{\sin i}{\sin r} = \frac{BC}{AD} = \frac{v_1 t}{v_2 t}$$= \frac{v_1}{v_2} = a \text{ constant}$<p>This proves Snell's law of refraction.</p><p>b) When unpolarised light gets scattered by molecules, the scattered light has only one of its two components in it. (Also accept diagrammatic representation)</p><div></div><p>We have, $\mu = \tan i_B$</p><p>$\therefore \tan i_B = 1.5$</p><p>$\therefore i_B = \tan^{-1} 1.5$</p><p>(/56.3°)</p><p style="text-align: center;">OR</p><table border="1"><tr><td>a) Ray diagram</td><td>1</td></tr><tr><td>Expression for power</td><td>2</td></tr><tr><td>b) Formula</td><td>½</td></tr><tr><td>Calculation of speed of light</td><td>1 ½</td></tr></table></div>	a) Ray diagram	1	Expression for power	2	b) Formula	½	Calculation of speed of light	1 ½	<div><p>½</p><p>½</p><p>½</p><p>½</p><p>½</p><p>½</p><p>½</p></div>	<div><p>5</p></div>
a) Ray diagram	1									
Expression for power	2									
b) Formula	½									
Calculation of speed of light	1 ½									

	<p>a)</p>  <p>Two thin lenses, of focal length f_1 and f_2 are kept in contact. Let O be the position of object and let u be the object distance. The distance of the image (which is at I_1), for the first lens is v_1.</p> <p>This image serves as object for the second lens.</p> <p>Let the final image be at I. We then have</p> $\frac{1}{f_1} = \frac{1}{v_1} - \frac{1}{u}$ $\frac{1}{f_2} = \frac{1}{v} - \frac{1}{v_1}$ <p>Adding , we get</p> $\frac{1}{f_1} + \frac{1}{f_2} = \frac{1}{v} - \frac{1}{u} = \frac{1}{f}$ $\therefore \frac{1}{f} = \frac{1}{f_1} + \frac{1}{f_2}$ $\therefore P = P_1 + P_2$ <p>b) At minimum deviation</p> $r = A/2 = 30^\circ$ <p>We are given that</p> $i = \frac{3}{4}A = 45^\circ$ $\therefore \mu = \frac{\sin 45^\circ}{\sin 30^\circ} = \sqrt{2}$ <p>\therefore Speed of light in the prism $= \frac{c}{\sqrt{2}}$ $(\cong 2.1 \times 10^8 \text{ ms}^{-1})$</p> <p>[Award $\frac{1}{2}$ mark if the student writes the formula:</p> $\mu = \frac{\sin(A + D_m)/2}{\sin(A/2)}$ <p>but does not do any calculations.]</p>	<p>1</p> <p>$\frac{1}{2}$</p> <p>$\frac{1}{2}$</p> <p>$\frac{1}{2}$</p> <p>$\frac{1}{2}$</p> <p>$\frac{1}{2}$</p> <p>$\frac{1}{2}$</p> <p>$\frac{1}{2}$</p>	<p>5</p>
--	---	--	----------

Q25

- | | |
|--|-----------------------------|
| (a) Derivation of E along the axial line of dipole | 2 |
| (b) Graph between E vs r | 1 |
| (c) (i) Diagrams for stable and unstable equilibrium of dipole | $\frac{1}{2} + \frac{1}{2}$ |
| (ii) Torque on the dipole in the two cases | $\frac{1}{2} + \frac{1}{2}$ |

(a)



$$\text{Electric field at P due to charge } (+q) = E_1 = \frac{1}{4\pi\epsilon_0} \frac{q}{(r-a)^2}$$

 $\frac{1}{2}$

$$\text{Electric field at P due to charge } (-q) = E_2 = \frac{1}{4\pi\epsilon_0} \frac{q}{(r+a)^2}$$

 $\frac{1}{2}$

$$\text{Net electric Field at P} = E_1 - E_2 = \frac{1}{4\pi\epsilon_0} \frac{q}{(r-a)^2} - \frac{1}{4\pi\epsilon_0} \frac{q}{(r+a)^2}$$

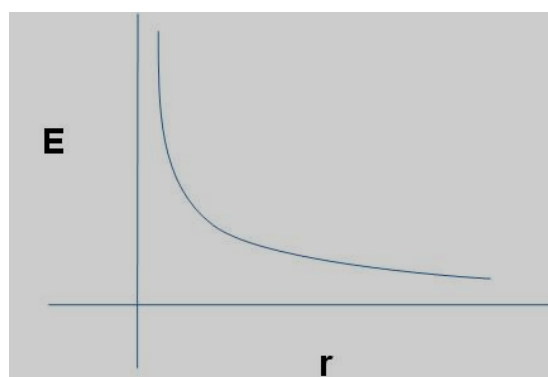
 $\frac{1}{2}$

$$= \frac{1}{4\pi\epsilon_0} \frac{2pr}{(r^2 - a^2)^2} \quad (p = q \cdot 2a)$$

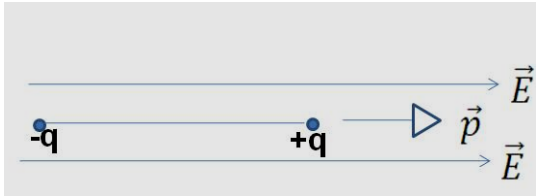

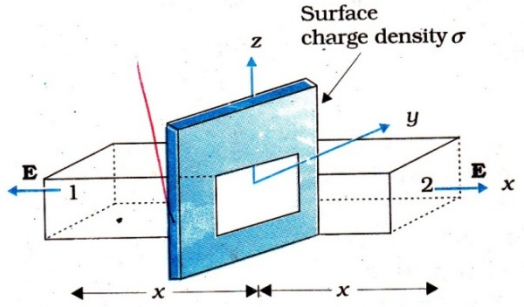
Its direction is parallel to \vec{p} .

 $\frac{1}{2}$

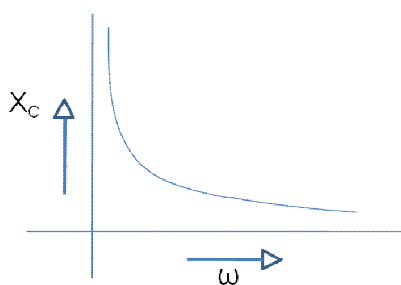

(b)

**1**

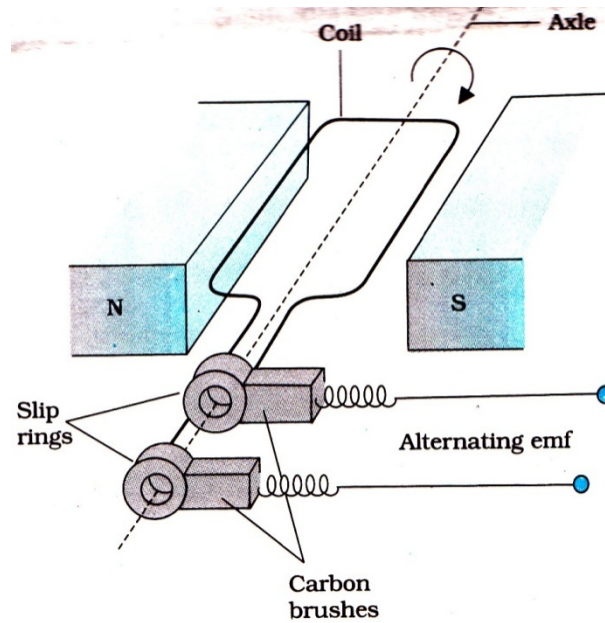
(Note: Award $\frac{1}{2}$ mark if the student just writes: For short Dipole = $\frac{1}{4\pi\epsilon_0} \frac{2p}{r^3}$ without drawing the graph)

	<p>(c)</p>  <p>Stable equilibrium</p>  <p>Unstable equilibrium</p> <p>(Note: Award 1/2 mark only if the student does not draw the diagrams but just writes:</p> <p>(i) For stable Equilibrium: \vec{p} is parallel to \vec{E}.</p> <p>(ii) For unstable equilibrium: \vec{p} is antiparallel to \vec{E})</p> <p>Torque = 0 for (i) as well as case (ii). (Also accept, $\vec{\tau} = \vec{p} \times \vec{E}$ / $\tau = pE \sin \theta$)</p> <p style="text-align: center;">OR</p> <div style="border: 1px solid black; padding: 10px; margin: 10px 0;"> <p>a) Using Gauss's theorem to find E due to an infinite plane sheet of charge 3</p> <p>b) Expression for the work done to bring charge q from infinity to r 2</p> </div> <p>a)</p>  $\oint \vec{E} \cdot d\vec{s} = \frac{q}{\epsilon_0}$	<p>1/2</p> <p>1/2</p> <p>1/2 + 1/2</p> <p>1/2</p> <p>1/2</p>	<p>5</p>
--	---	--	----------

	<p>The electric field E points outwards normal to the sheet. The field lines are parallel to the Gaussian surface except for surfaces 1 and 2. Hence the net flux $= \oint E \cdot ds = EA + EA$ where A is the area of each of the surface 1 and 2.</p> $\therefore \oint E \cdot ds = \frac{q}{\epsilon_0} = \frac{\sigma A}{\epsilon_0} = 2EA;$ $E = \frac{\sigma}{2\epsilon_0}$ <p>b)</p> $W = q \int_{\infty}^r \vec{E} \cdot d\vec{r}$ $= q \int_{\infty}^r (-E dr)$ $= -q \int_{\infty}^r \left(\frac{\sigma}{2\epsilon_0} \right) dr$ $= \frac{q\sigma}{2\epsilon} \infty - r $ $\Rightarrow (\infty)$	<p>1</p> <p>1</p> <p>$\frac{1}{2}$</p> <p>$\frac{1}{2}$</p> <p>$\frac{1}{2}$</p> <p>$\frac{1}{2}$</p>	5														
Q26	<table border="1"> <tr> <td>a) Identification</td> <td>$\frac{1}{2}$</td> </tr> <tr> <td>b) Identifying the curves</td> <td>1</td> </tr> <tr> <td>Justification</td> <td>$\frac{1}{2}$</td> </tr> <tr> <td>c) Variation of Impedance with frequency</td> <td>$\frac{1}{2}$</td> </tr> <tr> <td>Graph</td> <td>$\frac{1}{2}$</td> </tr> <tr> <td>d) Expression for current</td> <td>$1\frac{1}{2}$</td> </tr> <tr> <td>Phase relation</td> <td>$\frac{1}{2}$</td> </tr> </table> <p>a) The device X is a capacitor</p> <p>b) Curve B \longrightarrow voltage</p> <p>Curve C \longrightarrow current</p> <p>Curve A \longrightarrow power</p>	a) Identification	$\frac{1}{2}$	b) Identifying the curves	1	Justification	$\frac{1}{2}$	c) Variation of Impedance with frequency	$\frac{1}{2}$	Graph	$\frac{1}{2}$	d) Expression for current	$1\frac{1}{2}$	Phase relation	$\frac{1}{2}$	<p>$\frac{1}{2}$</p> <p>$\frac{1}{2}$</p> <p>$\frac{1}{2}$</p>	
a) Identification	$\frac{1}{2}$																
b) Identifying the curves	1																
Justification	$\frac{1}{2}$																
c) Variation of Impedance with frequency	$\frac{1}{2}$																
Graph	$\frac{1}{2}$																
d) Expression for current	$1\frac{1}{2}$																
Phase relation	$\frac{1}{2}$																

	Reason: The current leads the voltage in phase, by $\pi/2$, for a capacitor.	$\frac{1}{2}$											
	c) $X_c = \frac{1}{\omega C}$ ($X_c \propto \frac{1}{\omega}$)	$\frac{1}{2}$											
		$\frac{1}{2}$											
	d) $V = V_o \sin \omega t$												
	$Q = CV = CV_o \sin \omega t$	$\frac{1}{2}$											
	$I = \frac{dq}{dt} = \omega C V_o \cos \omega t$	$\frac{1}{2}$											
	$= I_o \sin(\omega t + \pi/2)$	$\frac{1}{2}$											
		$\frac{1}{2}$											
	Current leads the voltage, in phase, by $\pi/2$												
	(Note : If the student identifies the device X as an Inductor but writes correct answers to parts (c) and (d) (in terms of an inductor), the student be given full marks for (only) these two parts)												
	OR												
	<table border="1"> <tr> <td>a) Labelled diagram of ac generator</td> <td>1</td> </tr> <tr> <td>Expression for emf</td> <td>2</td> </tr> <tr> <td>b) Formula for emf</td> <td>$\frac{1}{2}$</td> </tr> <tr> <td>Substitution</td> <td>$\frac{1}{2}$</td> </tr> <tr> <td>Calculation of emf</td> <td>1</td> </tr> </table>	a) Labelled diagram of ac generator	1	Expression for emf	2	b) Formula for emf	$\frac{1}{2}$	Substitution	$\frac{1}{2}$	Calculation of emf	1		
a) Labelled diagram of ac generator	1												
Expression for emf	2												
b) Formula for emf	$\frac{1}{2}$												
Substitution	$\frac{1}{2}$												
Calculation of emf	1												
			5										

a)

**1**

Let ω be the angular speed of rotation of the coil. We then have

$$\phi(t) = NBA \cos \omega t$$

 $\frac{1}{2}$

$$\therefore E = -\frac{d\phi}{dt}$$

$$= NBA\omega \sin \omega t$$

 $\frac{1}{2}$

$$= E_0 \sin \omega t \quad (E_0 = NBA\omega)$$

1

b) Induced emf = Blv

 $\frac{1}{2}$

$$\therefore E = 0.3 \times 10^{-4} \times 10 \times 5 \text{ volt}$$

 $\frac{1}{2}$

$$E = 1.5 \times 10^{-3} \text{V} (= 1.5 \text{mV})$$

1

5